



Opgavenboekje

Bij dit examen hoort een bijlage en een uitwerkboekje

Voor dit examen zijn maximaal 78 punten te behalen; het examen bestaat uit 47 vragen. Voor elk vraagnummer is aangegeven hoeveel punten met een goed antwoord behaald kunnen worden.

Gesloten vragen

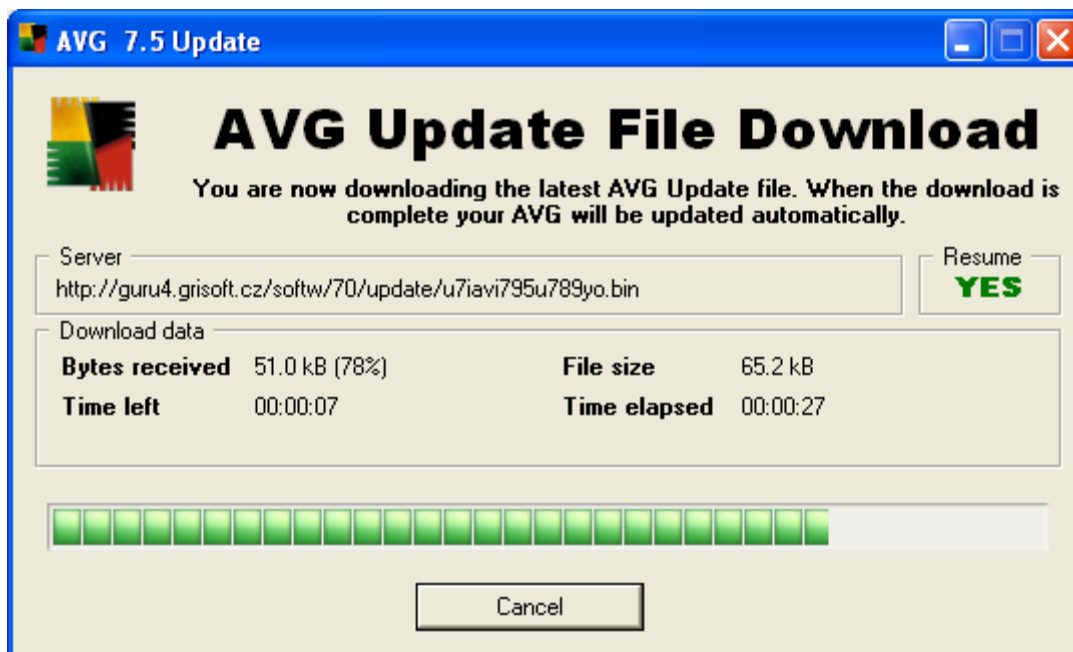
- 1p 1 ■ Hieronder staan vier beweringen. Welke bewering is juist?
- A Eerste generatie computers worden gekenmerkt door radiobuizen.
 - B Tweede generatiecomputers worden gekenmerkt door LSI chips.
 - C Derde generatie computers worden gekenmerkt door radiobuizen.
 - D Vierde generatie computers worden gekenmerkt door transistoren.
- 1p 2 ■ Wat is meestal een reden om een handmatige administratie om te zetten in een geautomatiseerde administratie?
- A Om meer medewerkers in dienst te nemen.
 - B Om de kwaliteit van diensten te verhogen.
 - C Om de capaciteit van computers te vergroten.
 - D Om misbruik van internet te voorkomen.
- 1p 3 ■ Wat geldt voor computers?
- A Computers denken zelfstandig.
 - B Computers voeren creatieve werkzaamheden uit.
 - C Computers verrichten routine werkzaamheden.
 - D Computers zetten informatie om in gegevens.
- 1p 4 ■ Emely werkt thuis en heeft steeds haar computer en het internet nodig om haar werk te doen. Zij heeft de laatste week gemerkt dat haar computer niet meer optimaal werkt. Ze heeft steeds meer en meer last van onder andere niet gewenste 'pop up' vensters en haar computer werkt traag. Maar ook merkt zij dat bepaalde instellingen van haar computer automatisch veranderen of verandert zijn. Wat is er zeer waarschijnlijk aan de hand met de computer van Emely?
- A Door groupware raakt haar computer overbelast.
 - B Een virus heeft de data op de harde schijf van haar computer aangetast.
 - C De instelling van haar firewall is te scherp.
 - D Haar computer is besmet met spyware.

Onderstaand verhaal hoort bij vraag 5, 6 en 7.

De heer Obispo heeft een CD van het antivirus programma AVG gekocht. Hij gaat meteen het programma op zijn computer installeren. Gedurende de installatie vraagt het AVG programma om verbinding te maken met het internet. Dit doet hij via zijn **modem**. Direct na de installatie vraagt het programma om te updaten via Internet.

- 1p 5 □ De heer Obispo besluit om het programma te updaten. Waarom is het noodzakelijk om het AVG programma te updaten?
- A Om besmetting van zijn computer met een moderne virus te voorkomen.
 - B Om er voor te zorgen dat zijn computer nooit meer gehacked wordt.
 - C Om het programma AVG opnieuw te registreren.
 - D Zodat het programma AVG kan opstarten.

Vraag 6 en 7 hebben betrekking op de afbeelding hieronder.



- 1p 6 ■ Bovenstaand venster verschijnt nadat de heer Obispo (van vraag 5) via zijn modem het downloaden heeft gestart.
Wat geldt voor de datatransmissie terwijl het AVG 7.5 Update venster in beeld is?
- A Er vindt off line datatransmissie plaats.
 - B Er vindt parallelle datatransmissie plaats.
 - C Er vindt seriële datatransmissie plaats.
 - D Er vindt draadloze datatransmissie plaats.
- 1p 7 ■ In het AVG 7.5 Update venster staat *kB* voor *kilo bytes*.
Hoe groot is dan de gemiddelde transmissiesnelheid in kB/s (kilo bytes per seconde) na 27 seconden?
- A 1,88 kB/s
 - B 2,41 kB/s
 - C 9,31 kB/s
 - D 51 kB/s
- 1p 8 ■ Een computernetwerk dient onder andere voor het uitwisselen van data.
HTTP, IPX/SPX, NetBUEI en TCP/IP zijn protocollen.
Welke van deze vier wordt NIET gebruikt voor het versturen van data?
- A HTTP
 - B IPX/SPX
 - C NetBUEI
 - D TCP/IP
- 1p 9 ■ Tussen welke onderdelen van een computer is de datatransmissie serieel?
- A Tussen de harddisk en de processor van een computer.
 - B Tussen het moederbord en de harddisk van een computer.
 - C Tussen het moederbord en de muis van een computer.
 - D Tussen het werkgeheugen en de processor van een computer.

- 1p **10** ■ De computer van Gloria beschikt over een werkgeheugen van 1 GB.
Wat geldt voor de computer van Gloria?
- A Geheugencapaciteit van het RAM geheugen is 1024 kilobyte.
 - B Geheugencapaciteit van het RAM geheugen is 1024 megabyte.
 - C Geheugencapaciteit van het ROM geheugen is 1024 kilobyte.
 - D Geheugencapaciteit van het ROM geheugen is 1024 megabyte.
- 1p **11** ■ Een Centrale Verwerkingseenheid (CVE) bevat onder meer de volgende componenten:
1. het besturingsorgaan
 2. het rekenorgaan
 3. de registers
- Ieder component heeft zijn eigen specifieke functie.
Drie functies van de CVE zijn:
verwerking van gegevens, tijdelijke opslag en verzenden en ontvangen.
In welke rij hieronder staan de componenten onder de juiste functie.

	verwerking van gegevens	tijdelijke opslag	verzenden en ontvangen
A	rekenorgaan	besturingsorgaan	register
B	register	besturingsorgaan	rekenorgaan
C	rekenorgaan	register	besturingsorgaan
D	besturingsorgaan	register	rekenorgaan

- 1p **12** ■ Werkgeheugen, externgeheugen en cachegeheugen zijn drie soorten geheugens die door een pc worden gebruikt. Een computergeheugen kan een permanente of een tijdelijke geheugen zijn.
Welke groep geheugens zijn tijdelijke geheugens?
- A Extern- en cachegeheugen.
 - B Werk- en cachegeheugen.
 - C Werk- en externgeheugen.
 - D Werk-, extern- en cachegeheugen.
- 1p **13** ■ Gegeven zijn de volgende soorten randapparatuur.
Invoer apparatuur, uitvoer apparatuur en opslagapparatuur.
Angelle moet van ieder soort randapparatuur, één voorbeeld noemen. Ze noemt: een *beamer*, een *memory stick* en een *MP3 player*. Welk soort randapparatuur heeft zij **niet** genoemd.
- A Invoer apparatuur
 - B Uitvoer apparatuur
 - C Invoer- en opslag apparatuur
 - D Uitvoer- en opslag apparatuur
- 1p **14** ■ Gegeven zijn de volgende printers.
matrix printer, inkjet printer en laserprinter.
Welke van de volgende omschrijvingen van de werking van de printer is juist?
- A De matrixprinter gebruikt een toner.
 - B De laserprinter straalt laserlicht op papier.
 - C De inkjet printer maakt tekens met behulp van een lint.
 - D De matrixprinter drukt tekens af die zijn opgebouwd uit puntjes.
- 1p **15** ■ Bij welke van de volgende toepassingen gebruikt men bij voorkeur een spreadsheetprogramma?
- A Geldtransacties bij een pin-automaat uitvoeren.
 - B Toekomstplannen voor een bedrijf beschrijven.
 - C Bedrijfsrespondentie over personeels beleid voeren.
 - D De kosten van salarisverhogingen voor een bedrijf doorrekenen.

- 1p **16** ■ Leo en Rennick moeten een verslag voor het vak informatica inleveren.
Renick zal informatie zoeken op internet. Het internet adres van de internetpagina die hij zal bekijken zal hij e-mailen naar Leo.
Welke twee applicaties heeft Rennick in ieder geval nodig om zijn belofte te vervullen?
- A Internet Explorer en Microsoft Word.
 - B Outlook Express en Internet Explorer.
 - C Microsoft PowerPoint en Microsoft Word.
 - D Outlook Express en Microsoft PowerPoint.
- 1p **17** ■ Zoekmachines (Search engines) zoals Google en Altavista bieden ons de mogelijkheid om:
- A De positie van een vliegdekschip ergens op zee te bepalen.
 - B De familie stamboom tot de vijfde generatie van je familie op te zetten.
 - C Elk willekeurig Nederlandse tekst te vertalen naar welk andere taal dan ook.
 - D De formule voor het berekenen van de aflossing bij een hypotheek van 25 jaar op te zoeken.
- 1p **18** ■ In de advertentie van een bedrijf dat netwerken installeert staat de volgende zin:
Bij breuk van een netwerkkabel is communicatie over het netwerk nog steeds mogelijk.
- Voor welke netwerk topologie geldt dit:
- A ring netwerk
 - B ster netwerk
 - C punt-naar-punt netwerk
 - D ring netwerk en punt-naar-punt netwerk
- 1p **19** ■ Lees onderstaande beweringen.
- I. In een ringnetwerk zijn alle computers direct met elkaar verbonden.
 - II. In een sternetwerk is elke computer met tenminste twee andere computers verbonden.
- Wat geldt voor bovenstaande beweringen?
- A Alleen I is juist
 - B Alleen II is juist.
 - C I en II zijn beide juist.
 - D I en II zijn beide onjuist.
- 1p **20** ■ Lees onderstaande beweringen.
- I. In een punt-naar-punt netwerk zijn twee computers via een centrale server met elkaar verbonden.
 - II. In een busnetwerk zijn alle computers via een centrale server met elkaar verbonden.
- Wat geldt voor bovenstaande beweringen?
- A Alleen I is juist
 - B Alleen II is juist.
 - C I en II zijn beide juist.
 - D I en II zijn beide onjuist.
- 1p **21** ■ Linux en Windows Server 2003 zijn:
- A toepassingsprogrammatuur
 - B systeemprogrammatuur
 - C netwerk besturingssystemen
 - D utilities
- 1p **22** ■ De heer Cardoze bezoekt voor de **tweede maal** een specialist. De medische historie van de heer Cardoze wordt vanaf een magneetstripkaart via een kaartlezer ingelezen en op een beeldscherm getoond.
Bij zijn eerste bezoek had hij zo'n kaart nog niet. Aan het einde van zijn eerste bezoek heeft de specialist hem de kaart overhandigd.
Welke functionaliteiten van een DBMS zijn tijdens het **eerste bezoek** in ieder geval gebruikt?
- A Creatie en raadplegen van records.
 - B Raadplegen en rapporteren van records.
 - C Creatie en opslag van records.
 - D Rapporteren en beveiligen van records.

Open vragen

- 1p **23** Bij een geval van datacommunicatie wordt tijdens de transmissie een transmissiefout geconstateerd. Vooraf is geregeld wat er daarmee verder zal gebeuren. Hieronder zijn drie mogelijkheden genoemd.
- Het bericht wordt automatisch opnieuw verzonden totdat het lukt.
 - Het bericht wordt niet automatisch opnieuw verzonden. Er verschijnt een melding dat de verzending is mislukt.
 - Het bericht wordt niet automatisch opnieuw verzonden. Er verschijnt een melding van de reden waarom.

De keuze uit de bovengenoemde mogelijkheden is ook vooraf geregeld.
In het kadertje hieronder staat een onafgemaakte zin.

Een programma dat uit dit soort regelingen is opgebouwd heet een

Maak deze zin in het uitwerkboekje correct af.

- 1p **24** Datatransmissie kan zowel serieel als parallel plaatsvinden. Bij datacommunicatie, over grote afstanden, wordt alleen seriële datatransmissie toegepast.
Waarom wordt voor datacommunicatie, over grote afstanden, **GEEN** parallelle datatransmissie toegepast?

*AMD Turion 64 X2 Mobile Technology
100 GB SATA150
NVIDIA GeForce Go 7600 256 MB Video
2048 MB PC5300 DDR2 667 Memory
15.4" WXGA Wide-Screen TFT Display 1280x800 Pixels*

- 1p **25** Bovenstaande specificaties zijn afkomstig uit een advertentie in een tijdschrift.
Hoe groot is de geheugencapaciteit van het werkgeheugen?
- 1p **26** Het cijfer **64** in *AMD Turion 64 X2 Mobile Technology* geeft aan dat deze computer een woordlengte heeft van 64 bits.
Hoeveel bytes kunnen er maximaal bij één adres van het RAM geheugen worden opgeslagen?

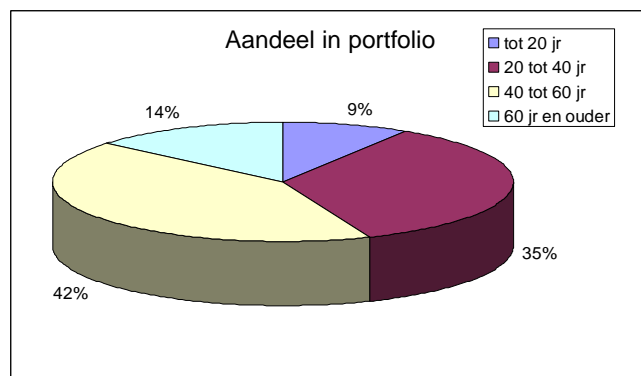
- 1p **27** In de afbeelding hiernaast is het numerieke deel van een toetsenbord in een kadertje weergegeven.
Dit gedeelte van het toetsenbord is zeer geschikt voor invoer van cijfers en/of berekeningen.
Noem nog een functie waarvoor dit gedeelte van het toetsenbord kan worden gebruikt.



- 1p **28** Een Apple computer heeft een G5 processor en heeft Mac OS als besturingssysteem.
Een Dell computer heeft een Intel processor en heeft Windows XP als besturingssysteem.
Windows XP kan niet op de Apple computer geïnstalleerd worden.
Waarom niet?

In de afbeeldingen hieronder worden twee diagrammen weergegeven met gegevens van aandelen in een portfolio van een bedrijf.

Leeftijdsklasse	Aandeel in portfolio
tot 20 jr	9
20 tot 40 jr	35
40 tot 60 jr	42
60 jr en ouder	14



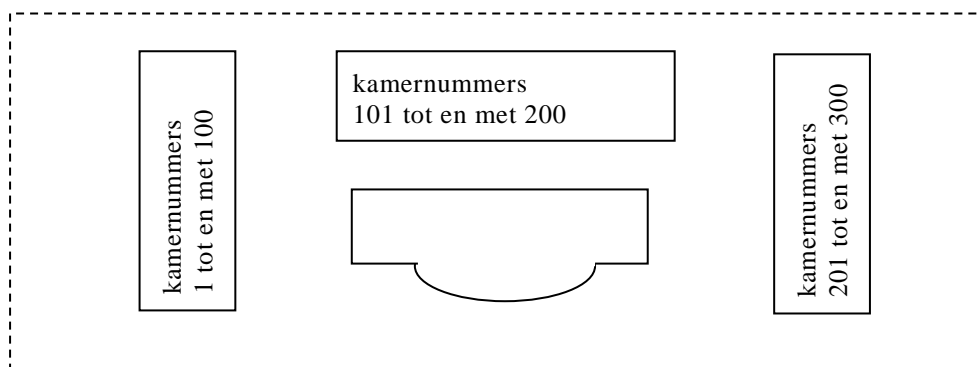
- 1p **29** De directeur van een bedrijf wil bovenstaande tabel en taartdiagram maken. Hij wil dit doen waarbij hij gebruikt maakt van uitsluitend één programma uit het Microsoft Office pakket. Geef de naam van het programma waarmee hij dit kan doen.
- 2p **30** Internet Explorer is een webbrowser. Eén van de functies van een webbrowser is het transporteren van bestanden tussen computers op afstand. Het protocol dat daarbij wordt gebruikt heet FTP. Noem nog een functie van een webbrowser en geef ook de naam van het protocol dat bij deze functie hoort. Vul de tabel in het uitwerkboekje in.



- 2p **31** Hierboven zijn twee soorten netwerkstructuren weergegeven. In het uitwerkboekje staan twee netwerkprotocollen genoemd. Geef in de tabel in het uitwerkboekje bij elk netwerk aan welk(e) netwerkprotocoll(en) gebruikt kan worden. Doe dat met een kruisje.
- 1p **32** In een advocatenkantoor heeft iedere advocaat zijn/haar eigen computer. Gegevens worden uitgewisseld via memory sticks, wat nogal lastig is. De directeur van het kantoor wil een netwerk met een 'file server' op het kantoor aanleggen, zodat de gegevens makkelijker uitgewisseld kunnen worden. Welke netwerkstructuur is hiervoor het meest geschikt?
- 2p **33** In de tabel in het uitwerkboekje staan vier soorten computerverwerkingen genoemd. Voor welke computerverwerking is multi processing noodzakelijk? Geef dat aan in de tabel in het uitwerkboekje. Vul in *ja* of *nee*.
- 2p **34** Op een school worden alle gegevens van de leerlingen in een database bijgehouden. De schooldirectie zorgt voor de nodige tabellen en de docenten voeren de gegevens in. Gedurende een schooljaar maken zij allebei gebruik van de functionaliteiten die het databasemanagementsysteem hen biedt. In het uitwerkboekje staat een aantal soorten verwerkingen genoemd. Geef in de tabel in het uitwerkboekje voor elke soort verwerking aan welke DBMS functionaliteit daarvoor gebruikt wordt.

Structured Query Language (SQL)

In de afbeelding hieronder is de ligging van de 300 kamers van het beroemde hotel *Ren Essence* weergegeven.



Hotel *Ren Essence* gebruikt voor haar “Customer Relationship Management” een relationele database waarin onder andere gegevens van haar gasten worden opgeslagen. Deze database bevat onder andere de volgende tabellen:

GAST (paspoortnr, gastnaam, geboortedatum, geboorteland, nationaliteitcode)

NATIONALITEIT (nationaliteitcode, nationaliteit)

VERBLIJF (paspoortnr, kamernr, aankomstdatum, vertrekdatum)

KAMER (kamernr, kamertype, locatie, tarief, telefoon, aantalbedden)

- 2p **35** In het uitwerkboekje is een deel van het bijbehorende bachman-diagram getekend. Maak het bachman diagram in het uitwerkboekje af.
- 2p **36** De heer Cooper en mevrouw de Jong arriveren op dezelfde dag in het hotel. Ze vertrekken ook beide op dezelfde dag. Ze willen één kamer samen delen. De gegevens van deze beide personen voor tabel VERBLIJF worden ingevoerd. Moet men dan één record of twee records in tabel VERBLIJF invoeren? Leg je antwoord uit aan de hand van **de sleutel** van bestand VERBLIJF.

Geef de opdracht of opdrachten in SQL voor het opvragen van de volgende gegevens:

- 3p **37** Een lijst van alle paspoortnummers van alle gasten die in het jaar 2006 geloged hebben in een kamer van de middelste vleugel van het hotel.
- 2p **38** Een lijst met de tarieven die het hotel hanteert en per tarief het aantal kamers van het hotel dat onder dat tarief vallen. De tabel hieronder geeft een voorbeeld van een mogelijke uitvoer.

tarief	aantal kamers
80	150
110	110
230	40

- 2p **39** Een lijst met de kamernummers en per kamer het gemiddelde bedrag per bed.
- 3p **40** Een lijst van de verschillende nationaliteiten van alle gasten van het hotel. Deze lijst moet in alfabetische volgorde van de nationaliteiten zijn.

NORMALISEREN

Bouwbedrijf Vast en Goed is gespecialiseerd in het construeren van kantoorgebouwen en schoolcomplexen. Het bedrijf heeft verschillende projecten lopen.

- Afhankelijk van de ligging van het project zorgt het bedrijf voor vervoer van en naar het projectgebied. De werknemers maken vooraf bekend of zij wel of geen gebruik zullen maken van de vervoersmogelijkheden. Bij andere projecten moeten alle werknemers voor hun eigen vervoer zorgen.
- Een werknemer van bouwbedrijf Vast en Goed kan voor verschillende projecten ingezet worden.
- Bij de aanneme van een project wordt per beroep onderhandeld over het te hanteren bedrag aan loon per uur.

Wekelijks wordt een overzicht geproduceerd met de urenverantwoording van iedere medewerker. Dit overzicht wordt gebruikt om de kosten te declareren aan de opdrachtgever. In de bijlage is zo een overzicht gegeven.

2p **41** Noem alle procesgegevens.

3p **42** De gegevensstructuur van de eerste normaalvorm bevat twee tabellen, namelijk tabel PROJECTEN en tabel AFSPRAKEN.
Schrijf deze twee tabellen op. Onderstreep de sleutel.

4p **43** Nog twee tabellen die tijdens het normaliseringproces ontstaan zijn de tabellen BEROEPEN en de tabel WERKNEMERS. De namen van deze tabellen zijn op basis van het feitenmateriaal bedacht.
Schrijf de gegevensstructuur van de tweede normaalvorm op en laat daarin zien of één van deze twee of beide tabellen in de tweede normaalvorm ontstaat? Onderstreep de sleutel.

3p **44** Schrijf de gegevensstructuur van de derde normaalvorm op. Onderstreep de sleutel.

Programma Structuur Diagram (PSD)

Om een huis te kopen moeten de meeste mensen geld lenen bij een bank (een hypotheek aanvragen). Het maximum hypotheekbedrag dat iemand via een bank kan lenen is gelijk aan 30 keer zijn bruto maandsalaris. Wanneer dit maximum hypotheekbedrag niet voldoende is omdat de verkoopprijs van het huis hoger is moet de koper zorgen voor één of andere vorm van garantie voor de bank. Het garantiebedrag is gelijk aan het bedrag dat de huiskoper, die een maximum hypotheek heeft gekregen, nog tekort komt.

De stichting “Eigen huis” is opgericht met als doel garanties te verlenen aan huiskopers. Om in aanmerking te komen voor een garantie moet de huiskoper aan de volgende eisen voldoen:

- I. Hij/zij moet een vaste baan hebben (baan = vast of tijdelijk).
- II. Een brutosalaris hebben dat niet minder is dan 3.500,00 gulden per maand.
- III. Niet meer dan 5.000,00 gulden aan openstaande schuld of schulden hebben.

Een huiskoper die gebruik wilt maken van de diensten van de stichting dient hiervoor een verzoek in door een verzoekformulier in te vullen. De stichting “Eigen Huis” krijgt dagelijks meer dan 25 verzoeken binnen. De gegevens van elk verzoek worden direct in een computerprogramma ingevoerd. Aan het einde van iedere dag wordt het programma GARANTIE gedraaid en de gegevens van alle verzoeken worden verwerkt. Per verzoek worden de volgende gegevens op een lijst afgedrukt:

- de naam van de indiener van het verzoek
- de beslissing van het programma (goedgekeurd of afgewezen)
- het garantiebedrag

Aan het einde van de lijst wordt de zin, **Totaal aan garantie is** en het totaal bedrag aan garanties afgedrukt.

Hieronder is een voorbeeld van zo een lijst.

Janboos, J.J.	Goedgekeurd	20.000,00
Trunk, T.J.	Goedgekeurd	14.000,00
Koning, A.R.	Afgewezen	0,00
.....
.....
Francisca, O	Goedgekeurd	12.500,00
Nichols, A,	Afgewezen	0,00
Totaal aan garantie is 213,500		

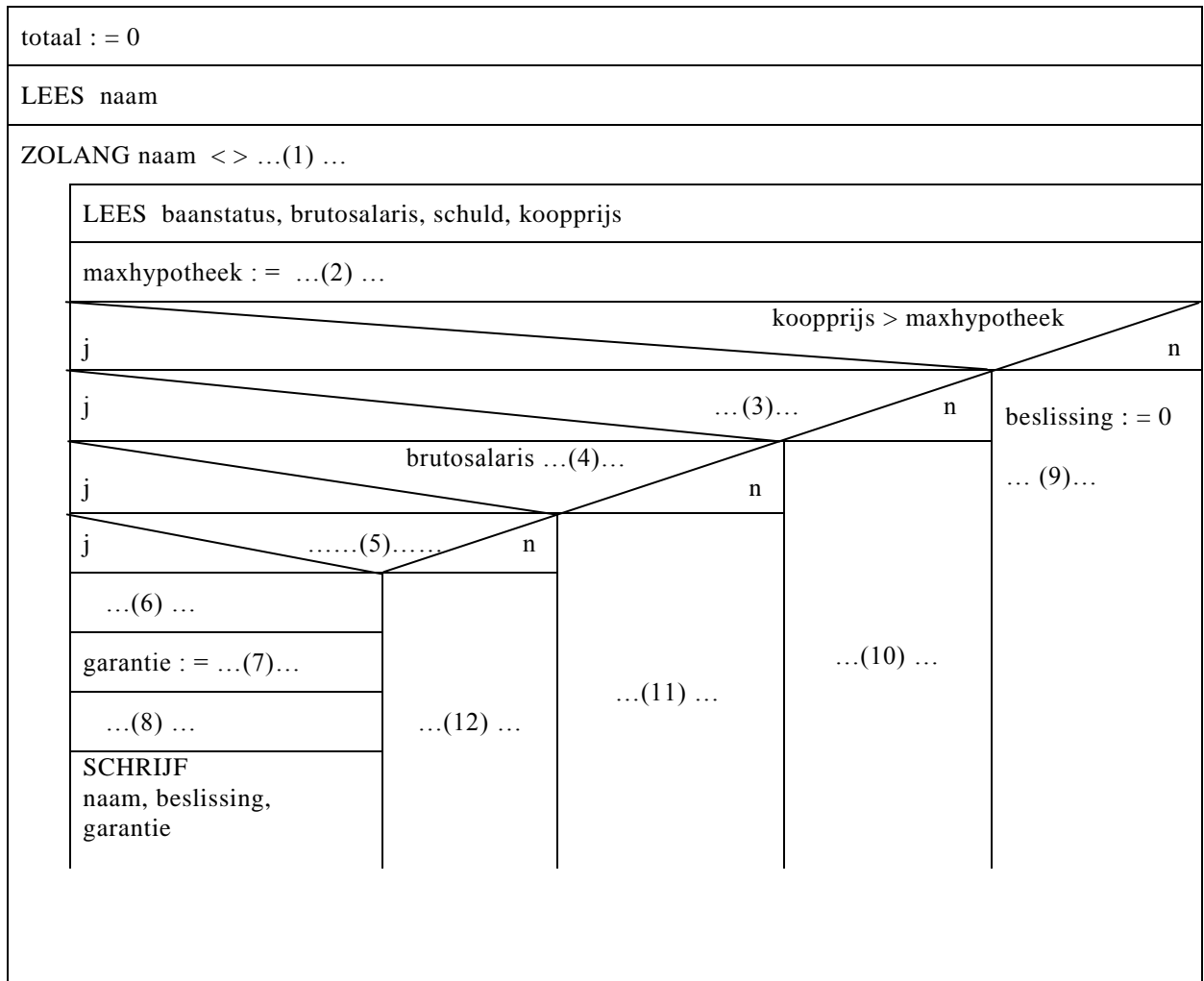
Om het programma te stoppen wordt de naam “EINDE” ingevoerd in het programma.

Joe Bungalo is 22 jaar oud en heeft een vaste baan. Joe Bungalo heeft een bruto maandsalaris van 4.000,00 gulden. Hij heeft geen schulden.

Hij wil een huis kopen 140.000,00 gulden. Van de bank krijgt hij een maximum hypotheek als hij daarnaast voor voldoende garantie kan zorgen. Joe dient een verzoek in bij de stichting.

- 1p 45 Bepaal of Joe in aanmerking komt voor garantie bij de stichting en zo ja, bereken het garantiebedrag. Laat je berekening zien.

- 10p **46** □ Hieronder staat het psd van het programma GARANTIE. Het psd is niet af. Sommige vakjes zijn met nummers aangegeven. In het uitwerkboekje zijn deze nummers opgenomen in een tabel.
 Vul in de tabel in het uitwerkboekje de juiste opdrachten in bij nummers (1) tot en met (12).



- 3p **47** □ In het uitwerkboekje staat dit psd nog een keer. Maak het onderste deel van het psd in het uitwerkboekje af. Doe dat als volgt:
- Teken de nodige lijnen om het diagram correct af te maken.
 - Vul eventueel ontbrekende opdrachten in.

Einde

Informatica

Examen HAVO 2008

tijdvak 1
vrijdag 30 mei
7.30 – 10.30 uur



Examennummer

.....

Naam

.....

Vraag 41, 42, 43 en 44

Overzicht Urenregistratie van Bouwbedrijf Vast en Goed (Week 22)

Projectnr	Projectnaam	Werk-nemersnr	Werknemers-naam	Beroep-code	Beroep	Vervoer	Loon per uur	Uren	Totaal
200701	Kantoorgebouw Wayaka	301	Jeffrey J. Goede	TM	Timmerman	Nee	€ 25.50	21.50	€ 548.25
		101	Sean K. Coy	MS	Metselaar	Nee	€ 25.50	32.00	€ 816.00
		501	Kevin Schmidt	MS	Metselaar	Nee	€ 25.50	17.50	€ 446.25
				PL		Nee			
		601	Phillip R. Marty		Projectleider		€ 40.00	15.00	€ 600.00
201	Davy E. Duff	EL	Elektricien	Nee	€ 30.00	12.00	€ 360.00		
					Subtotaal				€ 2,770.50
200703	Scholencomplex Trupial	411	James K. Jones	LG	Loodgieter	Nee	€ 27.00	13.50	€ 364.50
		811	Sciffo S. Schoop	SC	Schilder	Ja	€ 28.00	23.00	€ 644.00
		201	Davy E. Duff	EL	Elektricien	Ja	€ 30.00	22.00	€ 660.00
		211	Albert A. Hart	KB	Kraanbestuurder	Ja	€ 35.50	14.00	€ 497.00
					Subtotaal				€ 2,165.50
.....
.....
					Totaal Week 22				€ 6,936.00

Informatica

Examen HAVO 2008

Examnummer

tijdvak 1
vrijdag 30 mei
7.30 – 10.30 uur

.....

Naam

.....



Vraag 23

Een programma dat uit dit soort regelingen is opgebouwd heet een

Vraag 30

Functie	
Naam protocol voor deze functie	

Vraag 31

	Ethernet protocol	Token ring protocol
Netwerk I		
Netwerk II		

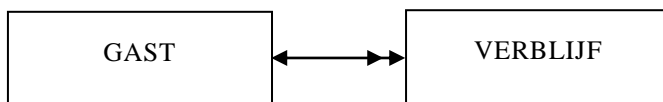
Vraag 33

Computerverwerking	multi processing noodzakelijk
Ruimtevaart berekeningen doen.	
Autoracetijden bijhouden en berekenen.	
Orkaan voorspellingen doen.	
Telling bij een politieke verkiezing bijhouden en de uitslag bepalen.	

Vraag 34

Gegevensverwerking	functionaliteit van een DBMS
Bestand van brugklas van 2008 aanmaken.	
Paswoord van een gebruiker opvragen.	
De informatica cijfers van een klas van HAVO 5 leerlingen op scherm tonen.	
Het tweede SE cijfer wiskunde van leerling Hansen opzoeken.	

Vraag 35



Vraag 46

(1)	
(2)	
(3)	
(4)	
(5)	
(6)	
(7)	
(8)	
(9)	
(10)	
(11)	
(12)	

Vraag 47

totaal := 0			
LEES naam			
ZOLANG naam <> ... (1) ...			
LEES baanstatus, brutosalaris, schuld, koopprijs			
maxhypotheek := ... (2) ...			
j		koopprijs > maxhypotheek	
j		... (3) ...	n
j		brutosalaris ... (4) ...	n
j	 (5)	n
... (6) (12) (11) ...
garantie := ... (7) ...			
... (8) ...			
SCHRIJF naam, beslissing, garantie		... (10) ...	beslissing := 0 ... (9) ...

INFORMATICA HAVO

tijdvak 1

vrijdag 30 mei 2008

Opgavenboekje

Aan de voorzitter van de examencommissie,

In afwijking van artikel 25, lid 3, van het concept Eindexamenbesluit VWO-HAVO-VSBO, van 05.30.02, wordt u of uw plaatsvervanger verzocht, nadat de enveloppe met examenopgaven is geopend en de examenopgaven zijn uitgedeeld van het examen Informatica havo 2008 eerste tijdvak, aan het begin van de desbetreffende examenzitting de volgende mededelingen te doen:

Pagina 10, in het kadertje, laatste zin, staat:

Totaal aan garantie is 213,500

moet zijn

Totaal aan garantie is 213.500,00

Pagina 11, in het schema staat:

beslissing : = 0

... (9) ...

moet zijn

beslissing : =

... (9) ...

Management ETE
Ministerie van Onderwijs, Sport & Cultuur

Hoger
Algemeen
Voortgezet
Onderwijs

tijdvak 1
vrijdag 30 mei
7.30 – 10.30



Inzenden scores

Verwerk de scores in het bijgeleverde programma Wolf en zend deze gegevens uiterlijk donderdag 5 juni 2008 elektronisch naar het ETE.

Het correctievoorschrift bestaat uit:

- 1 Regels voor de beoordeling
- 2 Algemene regels
- 3 Vakspecifieke regels
- 4 Beoordelingsmodel

1 Regels voor de beoordeling

Het werk van de kandidaten wordt beoordeeld met inachtneming van de artikelen 30, 31 en 32 van het concept Landsbesluit v.w.o.-h.a.v.o.-v.s.b.o. d.d. 02-12-2002.

Voor de beoordeling zijn de volgende passages van bovenvermelde artikelen van het Landsbesluit van belang:

- 1 De directeur doet het gemaakte werk met een exemplaar van de opgaven, de beoordelingsnormen en het proces-verbaal van het examen toekomen aan de examinator. Deze kijkt het werk na en zendt het met zijn beoordeling aan de directeur. De examinator past de beoordelingsnormen en de regels voor het toekennen van scorepunten toe die zijn gegeven door het ETE (Examenbureau).
- 2 De directeur doet de van de examinator ontvangen stukken met een exemplaar van de opgaven, de beoordelingsnormen, het proces-verbaal en de regels voor het bepalen van de score onverwijld aan de gecommiteerde toekomen.
- 3 De gecommiteerde beoordeelt het werk zo spoedig mogelijk en past de beoordelingsnormen en de regels voor het bepalen van de score toe die zijn gegeven door het ETE (Examenbureau).
- 4 De examinator en de gecommiteerde stellen in onderling overleg het aantal scorepunten voor het centraal examen vast.
- 5 Komen zij daarbij niet tot overeenstemming, dan wordt het aantal scorepunten bepaald op het rekenkundig gemiddelde van het door ieder van hen voorgestelde aantal scorepunten, zo nodig naar boven afgerond.

2 Algemene regels

Voor de beoordeling van het examenwerk zijn de volgende bepalingen van toepassing:

- 1 De examinator vermeldt op een lijst de namen en/of nummers van de kandidaten, het aan iedere kandidaat voor iedere vraag toegekende aantal scorepunten en het totaal aantal scorepunten van iedere kandidaat.
- 2 Voor het antwoord op een vraag worden door de examinator en door de gecommiteerde scorepunten toegekend, in overeenstemming met het beoordelingsmodel. Scorepunten zijn de getallen 0, 1, 2, ..., n, waarbij n het maximaal te behalen aantal scorepunten voor een vraag is. Andere scorepunten die geen gehele getallen zijn, of een score minder dan 0 zijn niet geoorloofd.
- 3 Scorepunten worden toegekend met inachtneming van de volgende regels:
 - 3.1 indien een vraag volledig juist is beantwoord, wordt het maximaal te behalen aantal scorepunten toegekend;
 - 3.2 indien een vraag gedeeltelijk juist is beantwoord, wordt een deel van de te behalen scorepunten toegekend, in overeenstemming met het beoordelingsmodel;
 - 3.3 indien een antwoord op een open vraag niet in het beoordelingsmodel voorkomt en dit antwoord op grond van aantoonbare, vakinhoudelijke argumenten als juist of gedeeltelijk juist aangemerkt kan worden, moeten scorepunten worden toegekend naar analogie of in de geest van het beoordelingsmodel;
 - 3.4 indien slechts een voorbeeld, reden, uitwerking, citaat of andersoortig antwoord gevraagd wordt, wordt uitsluitend het eerst gegeven antwoord beoordeeld;
 - 3.5 indien meer dan een voorbeeld, reden, uitwerking, citaat of andersoortig antwoord gevraagd worden, worden uitsluitend de eerst gegeven antwoorden beoordeeld, tot maximaal het gevraagde aantal;

- 3.6 indien in een antwoord een gevraagde verklaring of uitleg of afleiding of berekening ontbreekt dan wel foutief is, worden 0 scorepunten toegekend tenzij in het beoordelingsmodel anders is aangegeven;
 - 3.7 indien in het beoordelingsmodel verschillende mogelijkheden zijn opgenomen, gescheiden door het teken /, gelden deze mogelijkheden als verschillende formuleringen van hetzelfde antwoord of onderdeel van dat antwoord;
 - 3.8 indien in het beoordelingsmodel een gedeelte van het antwoord tussen haakjes staat, behoeft dit gedeelte niet in het antwoord van de kandidaat voor te komen.
- 4 Het juiste antwoord op een meerkeuzevraag is de hoofdletter die behoort bij de juiste keuzemogelijkheid. Voor een juist antwoord op een meerkeuzevraag wordt 1 punt toegekend. Voor elk ander antwoord worden geen scorepunten toegekend. Indien meer dan een antwoord gegeven is, worden eveneens geen scorepunten toegekend.
 - 5 Een fout mag in de uitwerking van een vraag maar een keer worden aangerekend, tenzij daardoor de vraag aanzienlijk vereenvoudigd wordt en/of tenzij in het beoordelingsmodel anders is vermeld.
 - 6 Een zelfde fout in de beantwoording van verschillende vragen moet steeds opnieuw worden aangerekend, tenzij in het beoordelingsmodel anders is vermeld.
 - 7 Indien de examinerator of de gecommitteerde meent dat in dit examen of in het beoordelingsmodel bij dit examen een fout of onvolkomenheid zit, beoordeelt hij het werk van de kandidaten alsof examen en beoordelingsmodel juist zijn. Hij dient de fout of onvolkomenheid wel mede te delen aan het ETE. Het is niet toegestaan zelfstandig af te wijken van het beoordelingsmodel. Met een eventuele fout wordt bij de definitieve normering van het examen door het ETE rekening gehouden.
 - 8 Scorepunten worden toegekend op grond van het door de kandidaat gegeven antwoord op iedere vraag. Er worden geen scorepunten vooraf gegeven.
 - 9 Het cijfer voor het centraal examen wordt als volgt verkregen.
Eerste en tweede corrector stellen de score voor iedere kandidaat vast. Deze score wordt meegedeeld aan de directeur.
De directeur stelt het cijfer voor het centraal examen vast op basis van de regels voor omzetting van score naar cijfer. Dit cijfer kan afgelezen worden uit omzettingstabellen die beschikbaar worden gesteld na bepaling van de definitieve cesuur door het ETE.

3 Vakspecifieke regels

Voor het vak Informatica HAVO eerste tijdvak 2008 zijn maximaal 78 punten te behalen.

Bij een aantal vragen zijn specifieke aanwijzingen en deelscores in schuindruk aangegeven. Zie verder het antwoordmodel.

Voor een juist antwoord op een gesloten vraag wordt 1 punt toegekend.

■ Gesloten vragen

- 1 ■ A
- 2 ■ B
- 3 ■ C
- 4 ■ D
- 5 ■ A
- 6 ■ C
- 7 ■ A
- 8 ■ A
- 9 ■ C
- 10 ■ B
- 11 ■ C
- 12 ■ B
- 13 ■ A
- 14 ■ D
- 15 ■ D
- 16 ■ B
- 17 ■ D
- 18 ■ B
- 19 ■ D
- 20 ■ D
- 21 ■ C
- 22 ■ C

Open vragen

Maximumscore 1

- 23 protocol

Maximumscore 1

- 24 Aanleg is duur/ Aanleg is duurder dan seriële datatransmissie.

Maximumscore 1

- 25 2048 MB

Maximumscore 1

- 26 8 bytes

Maximumscore 1

- 27 Cursor besturing.

Maximumscore 1

- 28 Een besturingssysteem is processor afhankelijk.

Maximumscore 1

- 29 Microsoft Excel

Maximumscore 2

- 30 HTML pagina's interpreteren en leesbaar presenteren/ HTML pagina's tonen
Protocol is HTTP.

Maximumscore 2

- 31

	ethernet protocol	Token ring protocol
netwerk I	x	
netwerk II	x	x

Voor Ethernet bij beide netwerken: 1 punt

Token ring bij minstens één van de twee netwerken: 1 punt

Maximumscore 1

- 32 Sternetwerk met centrale server.

Maximumscore 2

- 33

Aktiviteit	Multiprocessing noodzakelijk
Ruimtevaart berekeningen doen.	Ja
Autoracetijden bijhouden en berekenen.	Nee
Orkaan voorspellingen doen.	Ja
Telling bij een politieke verkiezing bijhouden en de uitslag bepalen.	Nee

Elke twee juiste antwoorden: 1 punt.

Maximumscore 2

34 □

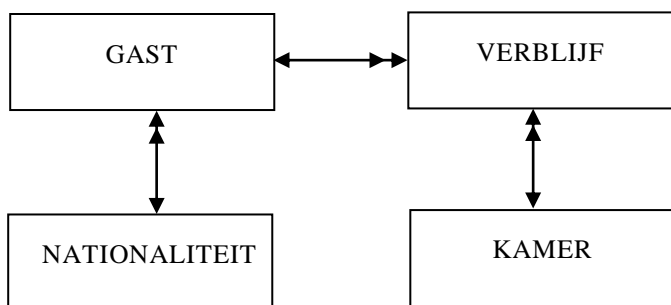
computerverwerkingen	faciliteit DBMS
Bestand van brugklas van 2008 aanmaken.	Creatie bestand
Paswoord van een gebruiker opvragen.	Beveiliging van bestand
De informatica cijfers van een klas van HAVO 5 leerlingen op scherm tonen.	Rapporteren
Het tweede SE cijfer wiskunde van leerling Hansen opzoeken.	Raadpleging bestand

Elke twee juiste antwoorden: 1 punt.

Structured Query Language (SQL)

Maximumscore 2

35 □



Voor elke juiste relatie: 1 punt.

Maximumscore 2

36 □

Twee records.

De sleutelwaarde van de record van de heer Cooper is niet gelijk aan die van mevrouw De Jong want zij hebben verschillende paspoortnummers.

1
1

Voor queries geldt:

- geen puntkomma aan het einde van een query, geen punt aftrekken.
- indien dezelfde syntax fout herhaald wordt bij meerdere antwoorden, dan in totaal slechts 1 punt hiervoor aftrekken.
- indien er meer dan de strict noodzakelijke gegevens opgevraagd worden is de select regel fout.

Maximumscore 3

37 □

SELECT paspoortnr FROM verblijf
WHERE kamernr >= 101 And kamernr <= 200
And aankomstdatum >= 01-01-2006 And vertrekdatum <= 31-12-006;

1
1
1

Alternatief

SELECT paspoortnr ,FROM verblijf
WHERE kamernr >= 101 And kamernr <= 200
And aankomstdatum like *-*-2006 And vertrekdatum like *-*-2006;

Maximumscore 2

38 □

Select tarief, count(tarief) from kamer
group by tarief;

1
1

Maximumscore 2

39 □

Select kamernr, tarief/aantalbedden from kamer;
tarief/aantalbedden
Hele query juist

1
1

- Maximumscore 3**
- 40 SELECT distinct(nationaliteit)
FROM nationaliteit, gast
WHERE nationaliteit.nationaliteitcode = gast.nationaliteitcode
Order by nationaliteit; 1
- Alternatief
SELECT nationaliteit
FROM nationaliteit, gast
WHERE nationaliteit.nationaliteitcode = gast.nationaliteitcode
GROUP BY nationaliteit
Order by nationaliteit; 1
- Maximumscore 2**
- 41 totaal, subtotaal, totaal week 22
Twee genoemd: 1 punt.
Drie genoemd: 1 punt erbij.
- Maximumscore 3**
- 42 PROJECTEN (projectnr, projectnaam) 1
AFSPRAKEN (projectnr, werknemersnr, werknemersnaam, beroepcode, beroep,
vervoer, loonperuur, uren) 2
- Voor tabel AFSPRAKEN geldt:*
Juiste sleutel: 1 punt
Juiste overige velden: 1 punt
- Maximumscore 4**
- 43 PROJECTEN (projectnr, projectnaam) 1
AFSPRAKEN (projectnr, werknemersnr, vervoer, uren, loonperuur) 1
WERKNEMERS (werknemersnr, werknemersnaam, beroepcode, beroep) 2
- Voor tabel WERKNEMERS geldt:*
Juiste sleutel: 1 punt
Juiste overige velden: 1 punt
- Maximumscore 3**
- 44 PROJECTEN (projectnr, projectnaam) en 1
AFSPRAKEN (projectnr, werknemersnr, vervoer, uren, loonperuur) 1
WERKNEMERS (werknemersnr, werknemersnaam, beroepcode, loonperuur) 1
BEROEPEN (beroepcode, beroep) 1

Maximumscore 1

- 45 maxhypotheek is $30 * 4.000,00 = 120.000,00$
garantie is $140.000,00 - 120.000,00 = 20.000$

Maximumscore 10

- 46

(1)	< > "einde"	<u>1</u>
(2)	30 * brutosalaris	<u>1</u>
(3)	baanstatus = "vast"	<u>1</u>
(4)	> = 3500	<u>1</u>
(5)	schuld < = 5000	<u>1</u>
(6)	beslissing := "goedgekeurd"	<u>1</u>
(7)	koopprijs – maxhypotheek	<u>1</u>
(8)	totaal := totaal + garantie	<u>1</u>
(9)	"afgewezen"	<u>1</u>
(10)	beslissing := "afgewezen"	} <u>1</u>
(11)	beslissing := "afgewezen"	
(12)	beslissing := "afgewezen"	

Maximumscore 3

47 □

totaal := 0			
LEES naam			
ZOLANG naam <> ... (1) ...			
LEES baanstatus, brutosalaris, schuld, koopprijs			
maxhypotheek := ... (2) ...			
kooprijs > maxhypotheek			
j			n
j	... (3) ...	n	beslissing := 0
brutosalaris ... (4) ...		n	... (9) ...
j (5)	n	
... (6) ...			
garantie := ... (7) ...			
... (8) (12) (11) (10) ...
SCHRIJF naam, beslissing, garantie			
LEES naam			
SCHRIJF "Totaal aan garantie is" , totaal			

Tekening

1

LEES naam

1

SCHRIJF "Totaal aan garantie is" , totaal

1



Aan: de scholen voor havo/vwo N.A.
de landsexamencommissie

Ter attentie van de secretaris van het eindexamen,

Onderwerp	Kenmerk	datum
Errata CV-Informatica havo 1 ^e tv	S2007/Ex-138-8	29 mei 2008

Geachte dames en heren,

Namens de examencommissie deel ik u mee dat in het toegezonden correctievoorschrift van het centraal schriftelijk examen Informatica havo eerste tijdvak de volgende wijziging/aanvulling dient te worden aangebracht:

Wijzigingen:

Pagina 6, vraag 37

aankomstdatum >= 01-01-2006 And vetrekdatum <= 31-12-2006

moet zijn

aankomstdatum >= 01-01-2006 And aankomstdatum < = 31-12-2006

bij de alternatief geldt;

aankomstdatum like *-*-2006 And vetrekdatum like *-*-2006

moet zijn

aankomstdatum like *-*-2006

Ieder willekeurige format van datum goed rekenen.

Hoogachtend,
Mw. E.A.R. Bomberg
Algemeen Manager